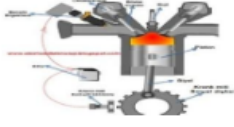


	<p>Soru: Şekildeki işaretin anlamı nedir?</p> <p>Cevap: Azami hız başlangıcı</p>
	<p>Soru: Hangi yolda takip mesafesi artırılır?</p> <p>Cevap: Sisli yollarda</p>
	<p>Soru: Şekildeki arac kaç metre mesafede park yapılabilir?</p> <p>Cevap: 20 metre</p>
	<p>Soru: Şekildeki araca kaç metre mesafede çakmak, kibrit vb. yanıcı maddeler ile yaklaşılabilir?</p> <p>Cevap: 30 metre</p>
	<p>Soru: Şekildeki trafik kazasında öndeki aracın sürücüsünün alkollü olduğu tespit edilmiştir. Sigorta hasarı karşılır mı?</p> <p>Cevap: Kesinlikle karşılamaz</p>
	<p>Soru: Araç GPS ile neden takip edilir?</p> <p>Cevap: Aracın nerede olduğunu, konumunu öğrenmek için</p>
	<p>Soru: Şekildeki işleme ne denir?</p> <p>Cevap: Akü takviyesi</p>
	<p>Soru: Şekildeki hareket hangi duyguyu ifade eder?</p> <p>Cevap: Savunma duygusunu</p>
	<p>Soru: Şekildeki trafik kazasında hangi kurala uyulmamıştır?</p> <p>Cevap: Geçiş üstünlüğü kuralına</p>



Soru: Şekildeki motorda ilk ateşlemeyi sağlayan parçanın adı nedir?
Not: Video bir sorudur.Soruda yanan bir motor gösterilmektedir.

Cevap: Buji



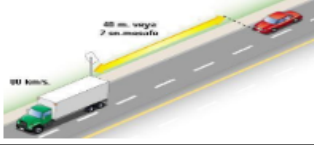
Soru: Şekildeki hareket nedir?

Cevap: Saygısızlık

- Baba daha hızlı gidelim.
- Hayır evladım kurallara uymalıyız.

Soru: Yandaki konuşmayı yapan sürücü nasıl kişiliktir?

Cevap: B tipi kişilik



Soru: Şekildeki ik araç arasındaki mesafe nedir?

Cevap: Takip mesafesi

Soru : Araçta sis farı ile birlikte hangi farların yakılması zorunludur?

Cevap: Kısa farların



Soru: Şekildeki yanlışlıklar nelerdir?

Cevap: Yükün bağlanmış olmaması, yolcu sayısının fazla olması,
Yolcuları yükün üzerinde oturtulması
CEVAP HEPSİ OLACAKTIR.










Video bir sorudur. Araç kabini, binalar, levhalar gösterilmektedir.

Soru: Araçtaki aletin adı nedir?

Cevap: Navigasyon veya yol klavuzu

Not: Sesli bir sorudur ve arka fonda fren sesi duyulmaktadır.
Soru: Sürücünün bu yolda yaptığı hata nedir?

	<p>Cenaze aracına yetki belgesi gerekmez</p> <p>a) Doğru b) Yanlış</p> <p>Cevap: Doğru</p>
	<p>Ambulans aracına yetki belgesi gerekmez</p> <p>a) Doğru b) Yanlış</p> <p>Cevap: Doğru</p>
	<p>Soru: Ağaç motoru ile ağaç keserken çıkan toz hangi organı etkiler?</p> <p>a) Akciğer b) Mide c) Karaciğer</p> <p>Cevap: Akciğer</p>
	<p>Soru: Fabrikadan çıkan kirli havanın insana vermiş olduğu zararlardan değildir?</p> <p>a) Kan kaybı b) Kanser c) Nefes Darlığı</p> <p>Cevap: Kan kaybı</p>
	<p>Soru: Yolun anayol ya da taliyol olduğu nereden anlaşılır?</p> <p>Cevap: Tabeladan</p>
	<p>Soru: Resimdeki etkene maruz kalan insanın sağlığına etkisi olamaz?</p> <p>a) İş kaybı b) Yanıklara sebep olur c) Gürültü</p> <p>Cevap: Yanıklara sebep olur</p>
	<p>Soru: Resimde görülen lastik aşındığı bölgeye bakılarak az şişirilmiştir, çok mu şişirilmiştir?</p> <p>a) Az b) Çok</p> <p>Cevap: Az</p>



Sürekli makas atan bir aracın gösterildiği video bir sorudur.
Soru: Sürücünün burada yaptığı nedir?

Cevap: Trafiği tehlikeye düşürmek



Soru: Tehlikeli madde taşıyan araçlar için takip mesafesi kaç metre olmalıdır?

Cevap: 50 metre



Video bir sorudur. Yarış pistinde yapılan bir tır yarış gösterilmektedir.
Soru: Bu yarışta hangi sigorta hasarı karşılamaz?

- a) Trafik Sigortası
- b) Ferdi kaza sigortası
- c) Hiçbiri

Cevap: a) Trafik sigortası



Animasyon video bir sorudur. Videoda karakterler duvardaki panoyu incelemektedir. Yakın plan da yandaki resim görülmektedir.
Soru: Eğitimden gösterilen panoya ne ad verilir?

Cevap: Vaziyet planı

(Cevap hatalıdır ancak soru gelirse üstteki cevabı veriniz)



Soru: Trafik işaretinin anlamı nedir?

Cevap: Sağa tehlikeli viraj



Soru: İlk yardımın temel uygulamalarından olan Koruma, kurtarma, bildirme işlemlerinin sıralaması nasıl olmalıdır?

Cevap: Koruma - Bildirme - Kurtarma



Soru 2 farklı şekilde gelmiştir.

1- Lastik orta kısımdan aşınmıştır. Lastik havaları nasıldır?

Cevap: Fazla şişirilmiş

2- Lastik yan duvarlarından aşınmıştır. Lastik havaları nasıldır?

Cevap: Eksik şişirilmiş



Soru: Video bir sorudur. Direksiyon dönmekte ve tekerlekler hareket etmektedir. Sistemin adı nedir?

Cevap: Direksiyon sistemi



Soru: Resimde görülen yanlışlık nedir?

Cevap: Emniyet şeridi ihlali



Soru: Resimde hangi kurala uyulmamıştır?

Cevap: Geçiş yanlışlığı yapılmıştır



Soru: Video bir sorudur. Soruda marş basılır önce şaft daha sonra diferansiyelin dönmesiyle tekerlekler dönmeye başlar. Burada şaftın hareketini verdiği parça nedir?

Cevap: Diferansiyel



Soru: Resme göre geçiş hakkı hangi araçındır?

Cevap: Dönel kavşak içindeki aracın, 2 numaralı aracın




Soru: Video bir sorudur. Akan trafikte kamyon hızla sola şeritten sağ şeride geçerek kazaya neden olmuştur.

Hangi kurala uyulmamıştır?

Cevap: a) Hız limitlerine, b) Hızının gerektirdiği şeritten gidilmemiştir
c) Geçiş kurallarına uyulmamıştır d) hepsi

Cevap hepsi seçeneği olacaktır.



Soru: Şekildeki işaretin hangi araçlarda bulunması zorunludur?

Cevap: Otobüs, kamyon ve çekicilerde



Soru: Resimde görülen lastik aşındığı bölgeye bakılarak az şişirilmiştir,
çok mu şişirilmiştir?
a) Az
b) Çok
Cevap: Çok



Soru: Resimdeki kayışın adı nedir?

Cevap: Triger kayışı



Soru: İşaretin anlamı nedir?

Cevap: Sola tehlikeli viraj