

Şekildeki aracı kullanan şoförün 1 günde kaç saatten fazla araç süremez?



B) 4,5 Saat

C) 24 Saat

Taşıt yolu üzerine çizilen aşağıdaki yatay işaretlemelerden hangisi, şeridin sadece ileri yönde seyir için olduğunu bildirir?



B)



C)



D)



Şekildeki nasıl bir karayoludur?

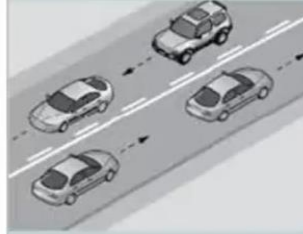


A) Tali yol

B) Bağlantı yolu



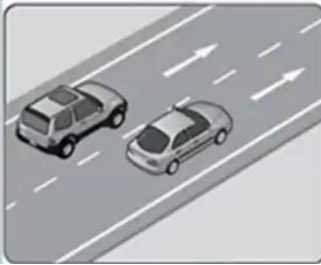
Şekildeki nasıl bir karayoludur?



B) Anayol

C) Tali Yol

Şekildeki nasıl bir karayoludur?



A) Tali yol



C) Bölünmüş Yol



Şekildeki nasıl bir güvenlik sistemidir?

A) Pasif dış güvenlik



C) Aktif dış güvenlik



Görseldeki doğru direksiyon tutuş şekli hangisidir?


A)3

C)2

• **SRC UYGULAMA SINAVI**

• Soru5- Resimde görmüş olduğunuz Trafik Tehlike İşaretine yaklaştığınızda ne yaparsınız?

A)Hızımı artırırım.Aracı sollar geçerim  
B)Hızımı azaltırım.Takip Mesafemi azaltırım.



Şekildeki gösterilmiş olan ekipmandan araçlarda kaç adet bulunması gerekir?



A) 3



C) 1

Görseldeki aracı kullanan şoför 4,5 saat araç kullandıktan sonra en az kaç dakika mola vermesi gerekir?



A) 60 Dakika



C) 11 saat

Görseldeki kaçış rampasının görevi nedir?



A) Polisten kaçmamızı sağlar

B) Geçmek isteyen araçlara yol vermemizi sağlar



Görseldeki Lastik hangi durumda kullanılır?



A) Karlı havalarda



C) Sıcak havalarda

• **S01- Görmüş olduğunuz levhanın anlamı nedir?**

- A) Mecburi Azami hız sınırlaması sonu
- B) Mecburi Aşgari hız sınırlaması sonu



ABONE OL NEDİM ŞEKER AKADEMİ



Görseldeki aracın periyodik bakımı yapılırken aşağıdakilerden hangisine dikkat edilir?

- A) Aracın imalatçı firmasının tavsiyesine göre belirlenen süre ve kilometrede aracın periyodik bakım tarihlerini takip eder.
- B) Araçta meydana gelen ve şoförün giderebileceği basit arızaları giderir



Şekilde tehlikeli madde taşıyan araç yerleşim yeri dışında öndeki araçla aralarındaki takip mesafesi ne olmalıdır?

- A) Hızının yarısı kadar
- B) 30
- C) 40



Şekildeki ön panel göstergesinin adı nedir?

- B) Hız Göstergesi
- C) Kilometre Göstergesi



Görselde hangi pasif güvenlik sistemleri kullanılmıştır?

- A) Hava yastığı-Fren
- B) Fren- Vitesi

Aşağıda soru işareti (?) ile gösterilen ve temel yaşam desteğinin 1. aşaması olan uygulama hangi seçenekte verilmiştir?



- A) Kırık kontrolünün yapılması
- B) Kanamanın kontrol edilmesi
- C) Şok pozisyonunun verilmesi

Görseldeki şekilde karşıdan karşıya geçen yayalara uygulanacak cezai işlem nedir?



- A) Para ve Puan cezası
- B) Cezai işlem uygulanmaz

• **S06- GÖRSELDEKİ GİBİ SİSLİ HAVADA SEYREDEN ARAÇ SÜRÜCÜSÜ NE YAPMALIDIR?**

- B) Takip mesafesini azaltmalı
- C) Kontrollü yoluna devam etmeli




Görseldeki gibi yapraklı yol aracın gidişini etkiler mi?



- A) Etkilemez
- C) Lastiğin dış derinliğine göre değişir

Şekildeki aracı kullanan sürücü neyi kontrol etmemiştir ?



- A) Motoru
- C) Aküyü

Şekildeki aracı kullanan şoförün 9 saat araç kullandıktan sonra en az kaç saat kesintisiz dinlenmelidir?



- A) 6 Saat
- C) 24 Saat



Akü başka akü ile takviye yapılacaksa kutup başları nasıl bağlanır?

- B) (+/-) (-/+)
- C) (-/-) (+/+)



- **S03- GÖRSELDEKİ ARAÇTA BİR KADININ KUÇAĞINDA (0-6) YAŞ ÇOCUK KUCAKTA TAŞINIYOR ÇOCUKTAN YOLCU ÜCRETİ ALINIRMI, ALINMAZ MI?**

A) ALINIR  
B) KUCAKTA YOLCU TAŞINMAZ



NOT: 0-6 yaş çocuklar yolcu bileti düzenlenmezken kucağa seyahat edebilirler. Bunlar için ayrı koltuk talep edilmesi halinde, bilet ücreti yüzde 50 indirimli düzenlenir.

- **Soru05: Görüntüde görmüş olduğunuz Otomobilin KARLI yolda Şehir içindeki azami hızı kaçtır ?**

A) 30  
B) 40

YENİ SORU



Görselde ? Belirtilen araç parçasının adı nedir?

A) Aks

C) Vites Kutusu

Aracın arızalanması halinde görseldeki işaret aracın ön ve arkasına kaç metre mesafe olacak şekilde yerleştirilmeli?



B) 20

C) 10

Şekildeki nasıl bir güvenlik sistemidir?



A) Aktif

C) Dış güvenlik

- **S11- Görmüş olduğunuz Levhanın adı nedir?**

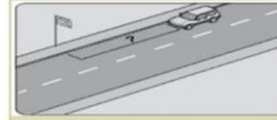
- A) Kontrollü Demir Yolu
- B) Kontrolsüz Demiryolu



Görseldeki araç için hangisi hatalı davranıştır?

B) Hız azaltmak

C) Takip mesafesini artırmak



Şekildeki araç sürücüsü, kamu hizmeti yapan yolcu taşıtı durağının en az kaç metre mesafe dışına aracını park edebilir?

A) 5

B) 10

D) 20

Şekilde sarı renkte belirtilmiş olan lastiğin janta oturmasını sağlayan kısmın adı nedir?



A) Yanak

C) Sırt



Tehlikeli madde taşıyan araçlar park anında diğer araçlarla aralarında en az kaç metre mesafe bırakmaktadır.

A) 5

B) 10

C) 15

Görseldeki gibi 7 derecenin üstündeki hava şartlarında hangi tip lastik kullanılmalıdır?



A) Kış Lastiği

B) Havası fazla lastik